

华师导航教育校联合招收

华侨、港澳地区、台湾省学生入学考试 2013 年真题

地理试题

一、选择题：本大题共 20 小题，每小题 3 分，在每小题给出的四个逸烦中，只有一项是符合题目要求的。

当地时间（东十二区）2011 年 2 月 22 日中午 12 时 51 分新西兰第二大城市克莱斯切特奇发生 6.3 级强烈地震。据此回答 1-2 题。

1. 造成本次地震的两大板块是
A. 亚欧板块、太平洋板块
B. 印度洋板块、太平洋板块
C. 印度洋板块、南极洲板块
D. 南极洲板块、太平洋板块
2. 本次地震发生时，北京时间为 22 日
A. 4 时 51 分 B. 8 时 51 分
C. 16 时 51 分 D. 20 时 51 分

据遥感图像显示，2005 年夏，世界第一大岛的一部分因冰川融化与本岛分离，形成一个独立的小岛——“升温岛”。据此回答 3-4 题。

3. “升温岛”属于
A. 加拿大 B. 美国
C. 俄罗斯 D. 丹麦
4. 有人认为，“升温岛”主要是由人类活动的原因而诞生的。按照此观点，下列人类活动有助于“升温岛”诞生的是
A. 大量燃烧矿物燃料
B. 过度开发海洋资源
C. 迅速发展的城市化
D. 过分干预水循环
5. 世界最长的四条河流中，春季易发洪涝灾害的是
A. 尼罗河 B. 亚马逊河
C. 长江 D. 密西西比河
6. 造就台湾野柳地貌景观的主要外力是
A. 海浪 B. 流水
C. 风力 D. 冰川

图 1 示意人口增长模式的转变，读图 1 回答 7-8 题

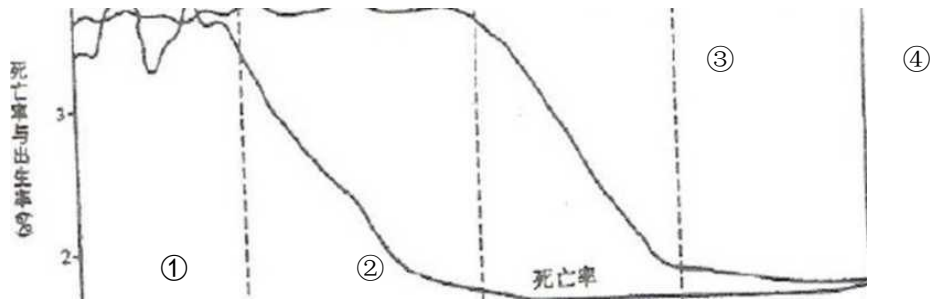


图 1

7.在图示四个阶段中

- A.人均寿命以①阶段为最高 B.人口自然增长率以②阶段为最高
C.老龄化人口比重以③阶段为最高 D.劳动力比重以④阶段为最高

8.发达国家的人口增长模式处于图示的

- A. ①阶段 B. ②阶段
C. ③阶段 D. ④阶段

9.主要种植热带经济作物的农业地域类型是

- A.种植园农业 B.商品谷物农业
C.水稻种植业 D.地中海农业

10. 20 世纪 80 年代，境外资本在珠江三角洲地区投资兴建的工业企业主要属于

- A.资源密集型工业 B.劳动密集型工业
C.资金密集型工业 D.技术密集型工业

11.人类排放到环境中导致大气臭氧层变薄的物质是

- A.二氧化碳等温室气体 B.二氧化硫和氧化氮等酸性气体
C.氟氯烃化合物 D.粉尘

12.世界大洋表面海水盐度最高值出现在

- A.热带海区 B.副热带海区
C.副极地海区 D.极地海区

13. 下列河流中，干流下游水能资源丰富的是

- A.亚马孙河 B.尼罗河 C.密西西比河 D.刚果河

14. 位于两大洲分界线上的大湖是

- A.里海 B.维多利亚湖
C.贝加尔湖 D.苏必利尔湖

15. 南非矿产资源丰富，其最重要的出口矿产品是

- A.煤 B.石油 C.金刚石 D.金

16. 欧美主要发达国家中，核能在能源消费构成中所占比重最高的是

- A.美国 B.德国 C.法国 D.英国

17. 目前世界高速铁路运营线路最长的国家是

- A.美国 B.德国 C.日本 D.中国

18. 单独构成我国地势的一级阶梯的地形单元是

- A.青藏高原 B.内蒙古高原 C.塔里木盆地 D.华北平原

19. 我国单线最长的跨区域资源调配工程干线是

- A.西气东输 B.南水北调
 C.西电东送 D.北煤南运
 20.我国最大的综合性工业区是
 A.辽中南工业区 B.京津唐工业区
 C.沪宁杭工业区 D.珠江三角洲工业区

二、填充题（每空 1 分，共 20 分）（请将答案填写在答题卡相应空格内）

- 21.世界面积最大的平原是_____平原，位于_____洲；世界面积第二大平原是_____平原；亚洲面积最大的平原是_____平原；中国面积最大的平原是_____平原。
 22.世界气候最复杂多样的是_____洲，该洲面积最广的气候类型是_____气候；该洲独特的气候中，自低纬向高纬依次分布着_____气候、_____气候和_____气候。
 23.北半球中高纬度的大洋环流呈_____时针方向，按寒、暖流分类，该类环流的东部为_____流；西部为_____流。南半球的中高纬度分布的洋流有_____流和_____流。
 24.随着科学技术的发展和交通运输的进步，世界钢铁工业布局经历了以下几个阶段：工业革命后，钢铁工业临近_____产地布局；20 世纪初开始，钢铁工业趋向临近_____产地布局；20 世纪 50 年代后，钢铁工业趋向布局在具有优良_____的沿海地区，这种布局类型称为“_____型”布局，我国 20 世纪 70 年代末在上海兴建的大型钢铁企业_____钢（简称）就属于这种布局类型。

三、读图、填图题（每空 2 分，共 40 分）（请将答案填写在答题卡相应空格内）

- 25.读图 2，将图中字母代表的地理事物名称填写在相应的空格中。

- A 为该国首都_____；
 B 为_____河；
 C 为该国最大的麻纺织工业中心_____；
 D 为该国最大的棉纺织工业中心_____；
 E 为世界著名的软件制造中心_____；

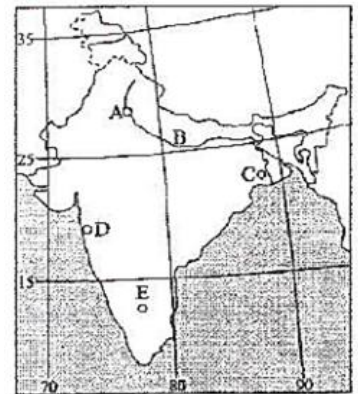


图 2

- 26.读图 3，将图中字母代表的地理事物名称填写在相应的空格中

- A 为_____海；
 B 为国际法庭所在地_____；
 C 为欧洲最大的港口_____港；
 D 为_____河；
 E 为_____，是欧盟总部所在地，被称为“欧洲首都”。

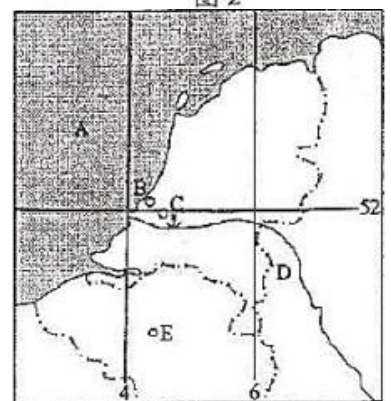


图 3

27. 读图 4，将图中字母代表的地理事物名称填写在相应的空格中

- A 是连接西藏的高原铁路_____铁路；
 B 是_____铁路；
 C 是甘肃省省会_____市；
 D 是我国最大的湖泊_____湖；
 E 是黄河上游最大的水电站_____水电站

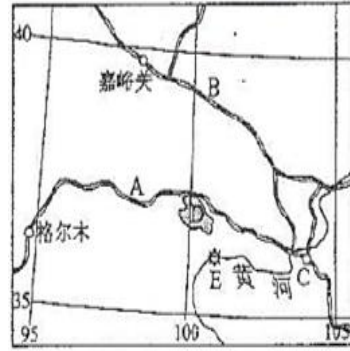


图 4

28. 读图 5，将图中字母代表的地理事物名称填写在相应的空格中。

- A 是列入《世界文化遗产》名录的 _____；
 B 是我国第二大咸水湖_____；
 C 是以地热闻名的_____；
 D 是_____市；
 E 为形成世界第一大峡谷的_____ (河流)

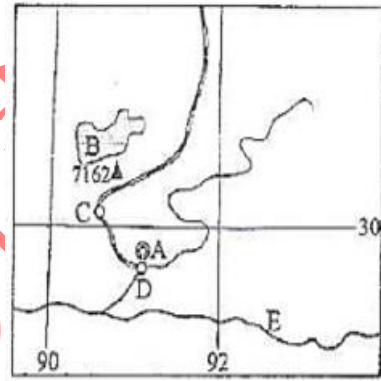


图 5

四、综合题 (共 30 分)

29. 图 6 示意我国台湾岛年降水量的分布。读图 6，简述台湾岛年降水量的分布特点及成因。(15 分)

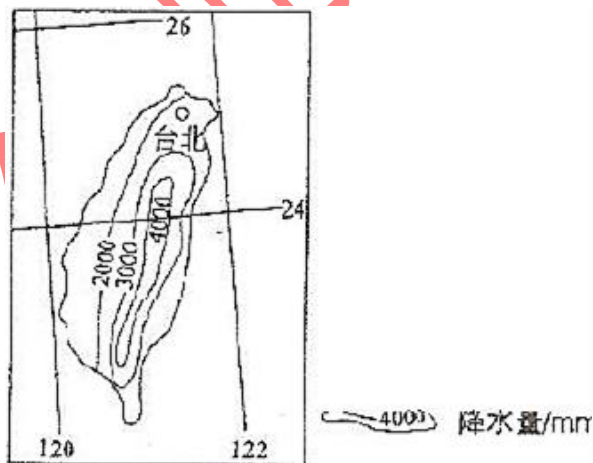


图 6

30. 简述日本工业集中分布在太平洋沿岸地带的原因。(15 分)